



Een snoepkraam kun je ook van blokken bouwen.
Net als de snoephuisjes, denkt Codie.

Hij kijkt van bovenaf naar zijn blokkenkraam.
Dan maakt hij een plattegrond.
Hij schrijft erin hoe hoog de blokken zijn:





Wat zijn de **rode** cijfers? _____

Wat zijn de **groene** cijfers? _____




Welke plattegrond hoort bij welk gebouw?
Trek een lijn.

Schrijf daarna de juiste hoogtes in de
plattegronden.
Gebruik ook 2 kleuren cijfers.



In de putten staat water.
 Hoeveel water zit er in de putten?
 Vul de witte vakjes in.



Samen **80 liter.**



Samen **60 liter.**

In  zit

liter.

In  zit

liter.



Samen **12 liter.**



Samen **19 liter.**

In  zit

liter.



Samen **14 liter.**



Samen **16 liter.**




Samen **18 liter.**

In  zit

liter.

In  zit

liter.



Halte sprookjesbos

Bus 15	Bus 23	Bus 37	Bus 48
17.15	17.05	17.20	17.10
17.30	17.12	17.40	17.22
17.45	17.19	18.00	17.34
18.00	17.26	18.20	17.46

Codie kijkt op het bord om te zien hoe laat zijn bus gaat.

Het is nu 7 minuten over 5.

Welke bus is net vertrokken?

Bus

Welke bus rijdt het vaakst per uur?

Bus

En welke de minste keren per uur?

Bus

Hoe vaak rijdt de bus van Codie naar de Vijverlaan per uur?

keer per uur

Hoe lang moet Codie wachten tot zijn bus vertrekt?

minuten

Codie neemt de eerste bus na 6 uur. Hij is om kwart voor 7 bij de Vijverlaan. Hoe lang heeft de bus er over gedaan?

minuten

De dag is bijna om. Codie is weer thuis in de vijver. Samen met zijn vrienden speelt hij met zijn gouden bal. Ze kunnen punten halen door de bal te gooien. Hij houdt iedere ronde de scores bij.

	Ronde 1	Ronde 2	Ronde 3
Dieter Das	43	27	12
Michel Muis	32	28	36
Emilio Eekhoorn	39	33	37
Codie Kikker	31	34	35

Zet een kruisje onder de juiste naam.	Dieter	Michel	Emilio	Codie
Wie haalt de minste punten in ronde 1?				
Wie haalt steeds minder punten?				
Wie haalt steeds meer punten?				
Wie haalt in totaal de meeste punten?				

Codie doet het spel nog een keer. Er worden weer 3 rondes gespeeld. Hij haalt iedere ronde hetzelfde aantal punten meer. Hoeveel punten zijn dat per ronde extra om gelijk te eindigen met Emilio?