

Survival

Voor jeugd van 6 tot en met 12 jaar worden deze zomer survivalkampen georganiseerd van 3, 4, 5 en 6 dagen. Tijdens de kampen leren kinderen overleven in de natuur, kaartlezen en het gebruiken van een kompas. Zo kun je niet verdwalen.

Een **kompas** is een instrument waarop je kunt aflezen waar het noorden is. Het heeft een magnetische naald die ronddraait en naar het noorden wijst. De kompasroos is de draaibare rand van het kompas. De kompasroos is verdeeld in 360 graden.

Hoe gebruik je een kompas?

- Leg een kaart plat neer en zet het kompas erop.
- Bepaal nu het noorden.
De gekleurde kant van de pijl van het kompas wijst het noorden aan.
- De kompasroos op de kaart geeft het noorden op de kaart aan.
- Draai de kaart zó dat het noorden van het kompas en het noorden van de kaart in dezelfde richting wijzen.

Op een kompas worden de windrichtingen vaak aangeduid met N, E, S en W. Het zijn de Engelstalige afkortingen voor North (noord), East (oost), South (zuid) en West (west).

Opgave 1

In welke richting wijst de kompasnaald?

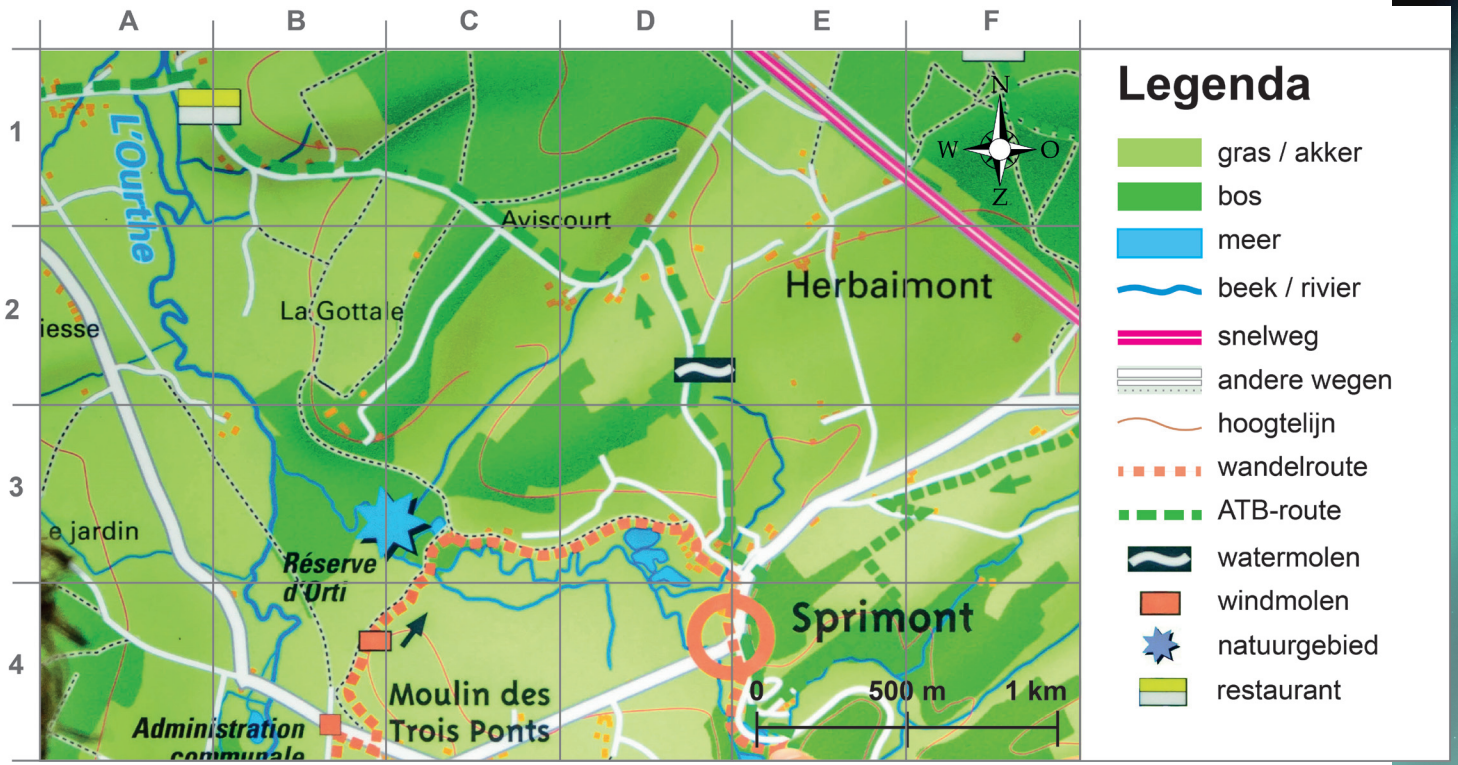
Je wilt naar het noorden lopen.
Welke kant ga je op?

Opgave 2

In welke richting wijst de kompasnaald?

Je wilt naar het noorden lopen.
Welke kant ga je op?

Kaart 1. Survivalgebied Ardennen



Gebruik voor de volgende opgaven kaart 1 en een liniaal.

Opgave 3

Tijdens een survivalkamp wil je groep van Sprimont naar La Gottale. In welke richting lopen jullie?

Opgave 4

Hoe ver is het van Sprimont naar La Gottale in een rechte lijn?

Opgave 5

Wat is het Réserve d'Orti?

In wat voor gebied ligt dat?




Opgave 6

Wat is de lichtoranje stippellijn?

Welke rivier ligt in vak A2?

Bron 3.
Groep 7 Basisschool De Zuiderzee



Gebruik voor de volgende opgaven bron 3.

Opgave 9

Hoeveel jongens zitten er in groep 7 van basisschool de Zuiderzee?

Opgave 10

Hoeveel meisjes zitten er in groep 7 van basisschool De Zuiderzee?

Opgave 11

Hoeveel kinderen uit groep 7 van basisschool De Zuiderzee houden van fietsvakanties?

Opgave 12

Hoeveel kinderen zitten er in totaal in groep 7 van basisschool De Zuiderzee?

Opgave 13

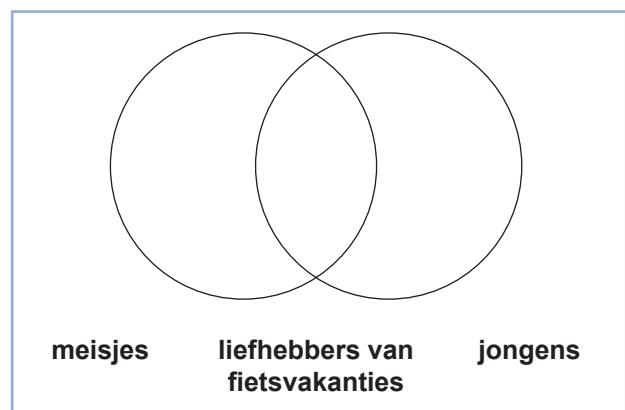
Hoeveel kinderen uit groep 7 van basisschool De Zuiderzee houden niet van fietsvakanties?

Opgave 14

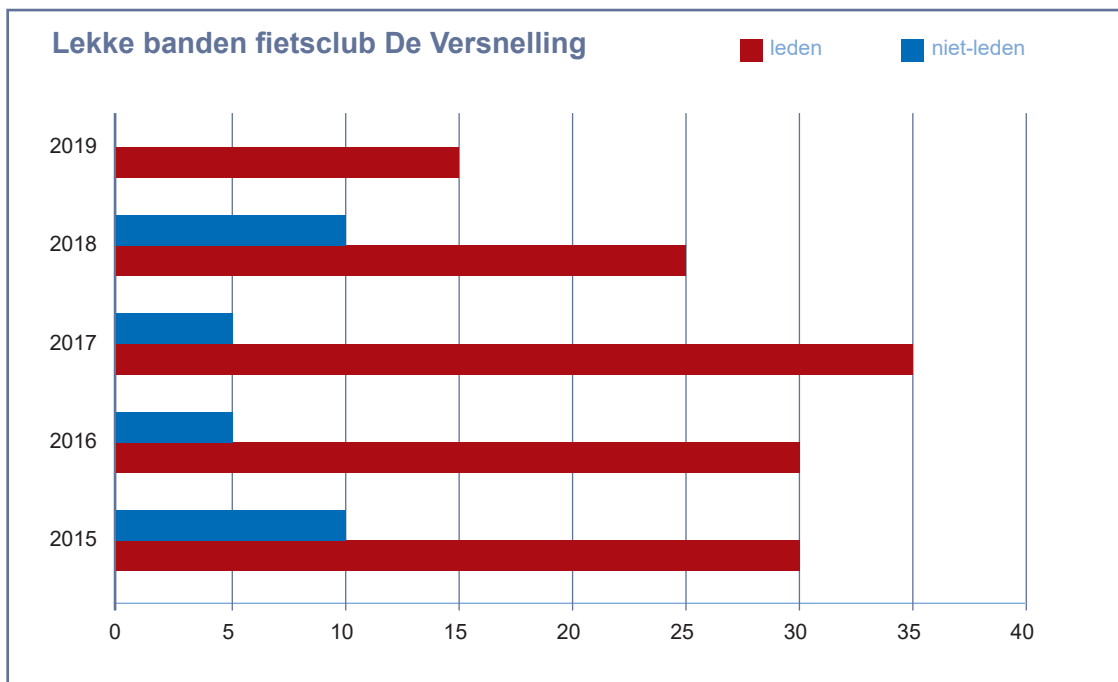
Zijn alle liefhebbers van fietsvakanties in groep 7 van basisschool De Zuiderzee jongens? Leg je antwoord uit.

Opgave 15

Maak een venndiagram van je eigen klas.



Grafiek 1. Lekke banden 'Tocht over de dijk' fietsclub De Versnelling



Fietsclub De Versnelling organiseert iedere week een fietstocht over de Afsluitdijk. Aan deze *Tocht over de dijk* doen leden en niet-leden mee. Tijdens de fietstochten worden er heel wat banden lek gereden.

Gebruik voor de volgende opgaven grafiek 1.

Opgave 1

In welk jaar hadden de meeste leden een lekke band? Hoeveel leden waren dat?

Opgave 2

In welk jaar hadden de minste niet-leden een lekke band? Hoeveel leden waren dat?

Opgave 3

In welke jaren hadden in totaal de meeste fietsers een lekke band? Hoeveel waren dat?

Opgave 4

In welk jaar hadden in totaal de minste fietsers een lekke band? Hoeveel?

Opgave 5

In welke jaar reed er een gelijk aantal leden zijn of haar band lek?

Opgave 6

In welk jaar was het waarschijnlijk niet zo mooi weer?

Opgave 7

Waardoor zouden er meer leden dan niet-leden een lekke band gehad hebben?
